

Berechne **Umfang** und **Flächeninhalt** folgender Frühlingsbilder!

- Überlege zuerst, ob du ein Rechteck oder ein Quadrat siehst!  
Die entsprechenden Formeln hast du ja gelernt. ;-)
- Kennst du eigentlich die Namen all dieser Pflanzen?

1.



$$l = 87 \text{ cm}$$

$$b = 43 \text{ cm}$$



2.



$$l = 1 \text{ m}$$

$$b = 50 \text{ cm}$$



3.



$$l = 70 \text{ cm}$$

$$b = 38 \text{ cm}$$




4.



$s = 47 \text{ cm}$



5.



$l = 3 \text{ cm}$

$b = 9 \text{ cm}$



6.



$s = 36 \text{ cm}$



7.




$l = 101 \text{ cm}$

$b = 69 \text{ cm}$



8.



$s = 67 \text{ cm}$



9.



$l = 70 \text{ cm}$

$b = 38 \text{ cm}$




10.



$s = 88 \text{ cm}$



11.



$l = 45 \text{ cm}$

$b = 90 \text{ cm}$

